

국회의원  
최재천

보도자료

새정치민주연합

주 소: 서울 영등포구 여의도동 1번지 국회의원회관 835호 최재천 의원실  
전 화: 02) 784-9811~3 Fax: 02)788-0380

발송일: 2014. 8. 15.

## ‘동해, ‘독도’ 단독표기, OECD국가 교과서에서는 찾아볼 수 없어

- 최재천 ... OECD국가 중 유일하게 한국 교과서에서만 ‘동해’, ‘독도’ 단독 표기 -

OECD 대부분 국가들의 교과서 지도에 ‘동해’가 ‘일본해’로 단독 표기돼 있고, ‘독도’도 ‘다케시마’ 혹은 ‘일본 영토’로 표기돼 있어 상당한 논란이 일고 있다.

국회 외교통일위원회 소속 새정치민주연합 최재천 의원은 한국학중앙연구원이 소장하고 있는 OECD 19개국의 교과서를 제출받아 분석한 결과, 이들 중 13개국의 교과서 지도에 ‘동해’가 ‘일본해’로 단독 표기돼 있고, 우리나라를 제외한 나머지 5개국들의 교과서에도 ‘독도’ 단독 표기가 아닌 ‘동해-일본해’로 병기돼 있는 것으로 확인됐다.

또 독도가 표기된 7개국의 교과서들 중 4개는 ‘독도’를 ‘다케시마’ 혹은 ‘일본 영토’로, 우리나라를 제외한 2개 국가에서도 ‘독도’ 단독 표기가 아닌 ‘독도-다케시마’ 혹은 ‘리앙 크루 락’으로 표기돼 있다.

최 의원은 “각국의 지리나 역사 교과서에서 ‘동해’나 ‘독도’가 어떻게 표기되어 있는지 현상을 정확히 파악해야 한다”며, “‘동해’와 ‘독도’가 제대로 표기될 수 있도록 민간, 학계, 정부가 다함께 나서서 총체적인 노력을 해야 한다.”고 말했다.

□ OECD 국가 교과서별 동해 및 독도 표기 현황

순 번	국가	동해 표기 현황	독도 표기 현황
1	호주	일본해	표기 없음 / 일본영토 표기
2	오스트리아	일본해(동해)	독도 / 다케시마
3	벨기에	일본해	표기 없음
4	캐나다	일본해(동해)	표기 없음
5	칠레	일본해	표기 없음
6	체코	일본해	표기 없음 / 일본영토 표기
7	덴마크		
8	에스토니아		
9	핀란드		
10	프랑스	일본해	표기 없음
11	독일	일본해(동해)	리앙크루 락
12	그리스	일본해	표기 없음
13	헝가리		
14	아이슬란드		
15	아일랜드		
16	이스라엘		
17	이탈리아	일본해 / 동해	표기 없음
18	일본	일본해	다케시마
19	한국	동해	독도
20	룩셈부르크		
21	멕시코		
22	네덜란드		
23	뉴질랜드	일본해	표기 없음
24	노르웨이		
25	폴란드		
26	포르투갈		
27	슬로바키아		
28	슬로베니아		
29	스페인	일본해	표기 없음
30	스웨덴	일본해	표기 없음
31	스위스		
32	터키		
33	영국	일본해(동해)	표기 없음
34	미국	일본해	표기 없음

\* 한국학 중앙연구원, OECD 34개국 중 19개국 교과서 소장

# 호주 교과서

**KEY**

River	Island	Country border	Major road	TOKYO Over 5 000 000 people
Lake	Wetland	JAPAN Country name	Major railway	Taegu 1 000 000 to 5 000 000 people
Mountain	World Heritage national park	TOKYO Country capital		Nampo 500 000 to 1 000 000 people
Mt. Fuji 3776 m				Nakhodka 100 000 to 500 000 people
				Mori Under 100 000

Height in metres: 4000, 2000, 1000, 500, 200, 0 (Land below sea level), 200, 2000, 4000, 8000. Depth in metres.





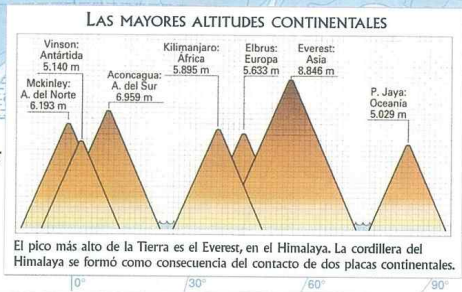
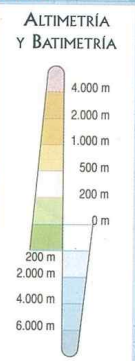
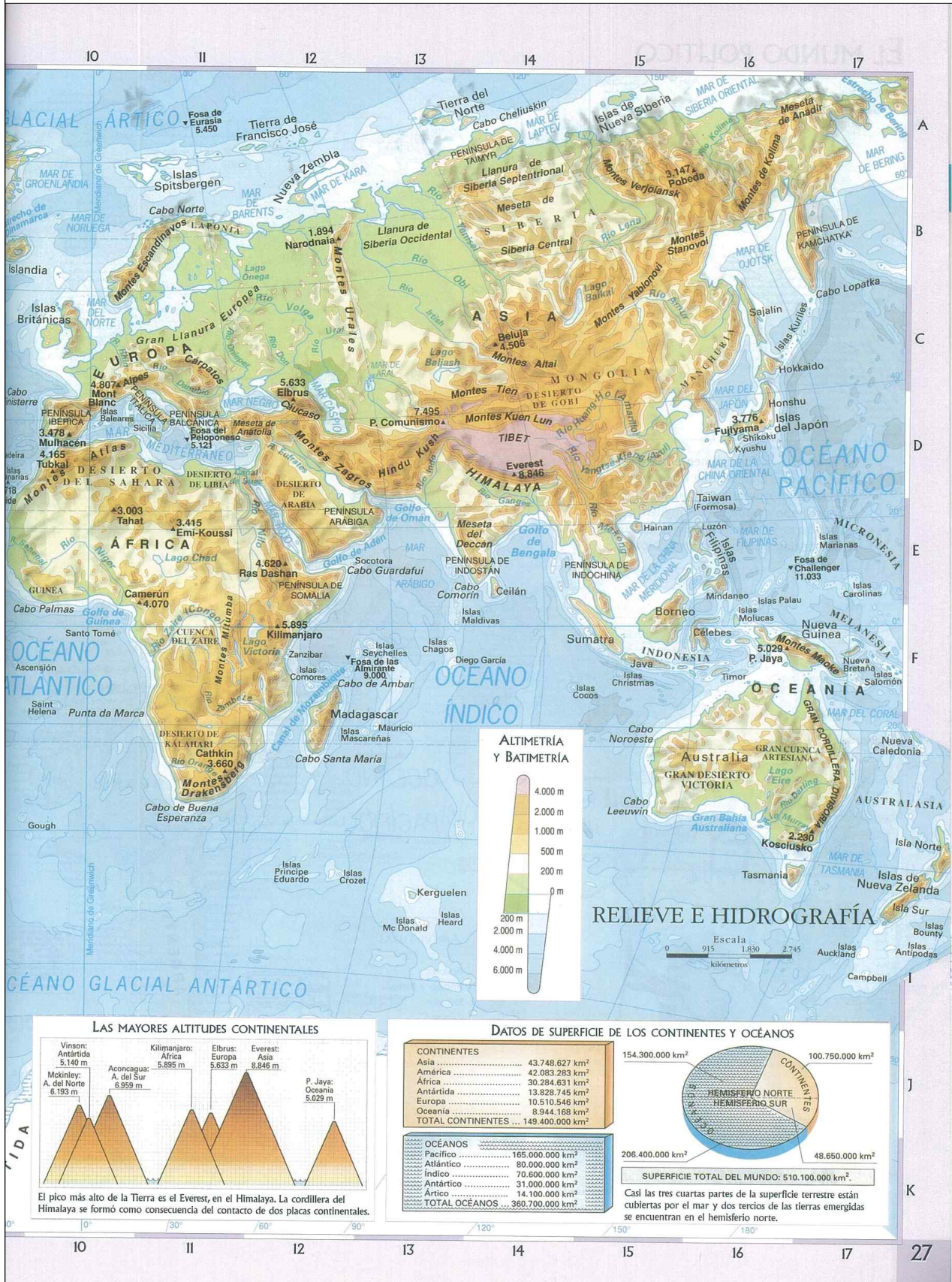
Fächentreuer zwischenständiger Azimutalwurf nach Lambert. Berührungspkt: 35° Nord/110° Ost



# 캐나다



# 칠레



# 체코

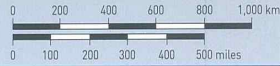




# 독일

DE-106  
www.diercke.com

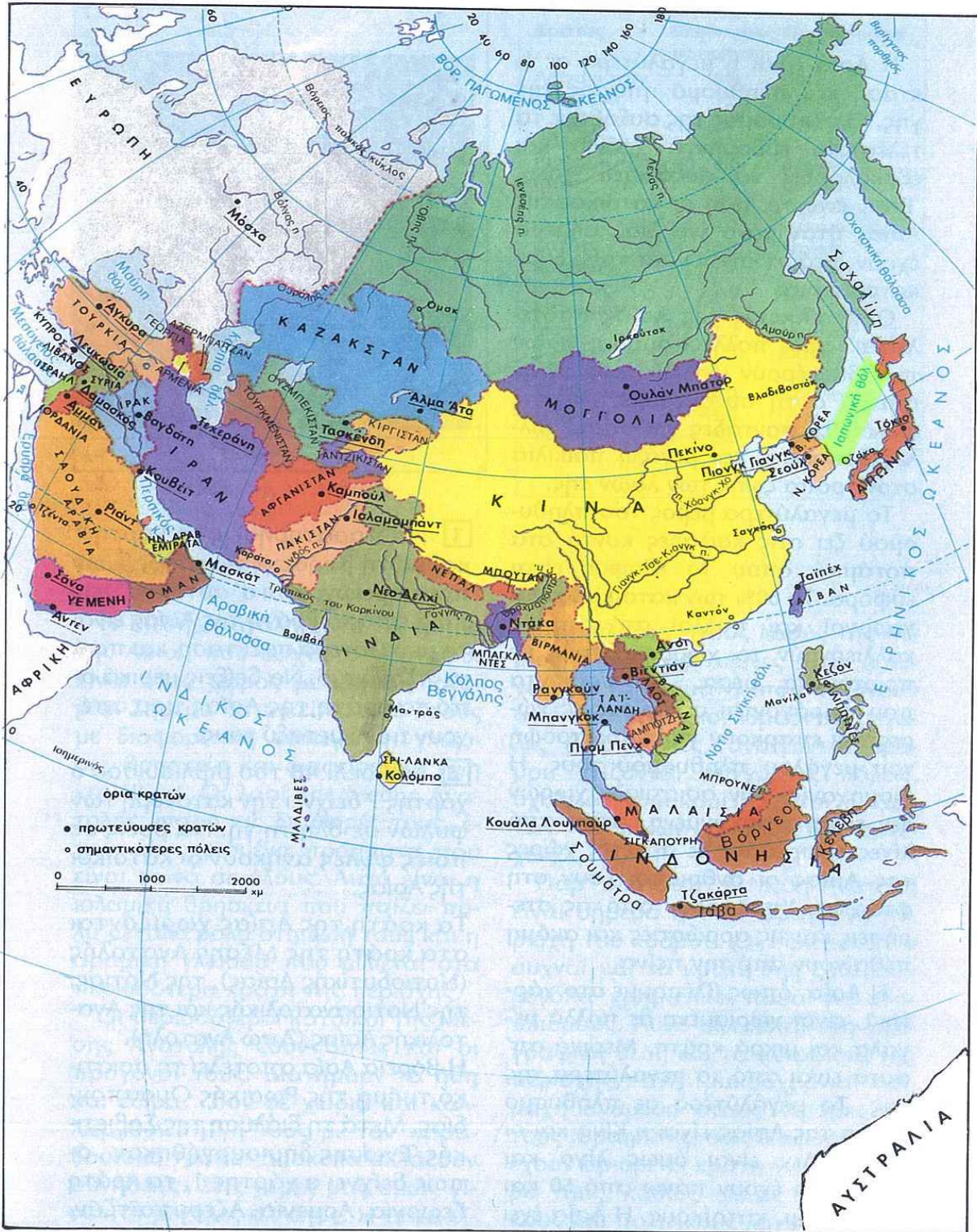
Scale 1 : 18 000 000  
1 cm = 180 km = 111.8 miles



107



ASIA

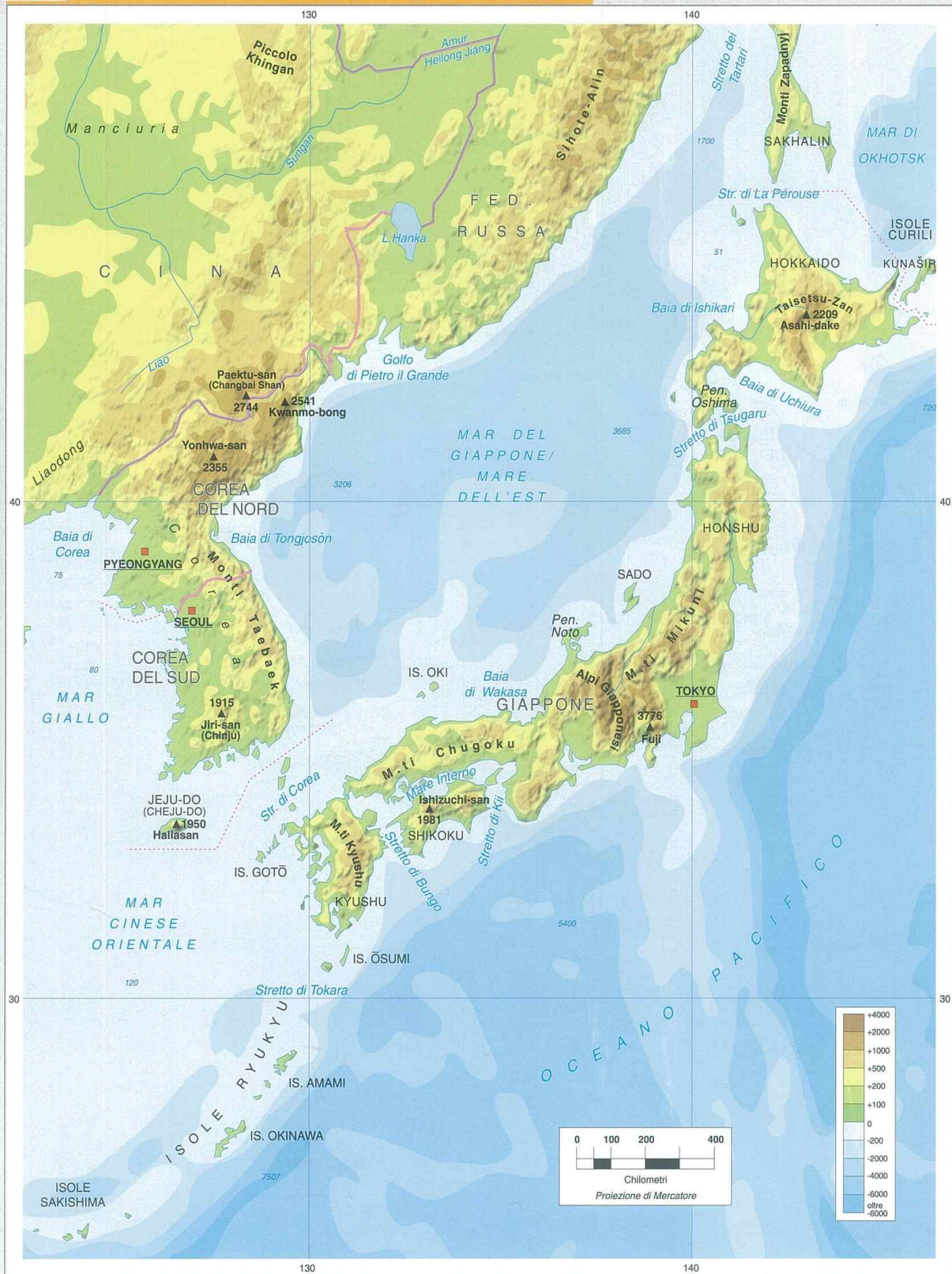


1. Πολιτικός χάρτης της Ασίας

Η ΓΗ ΜΑΣ

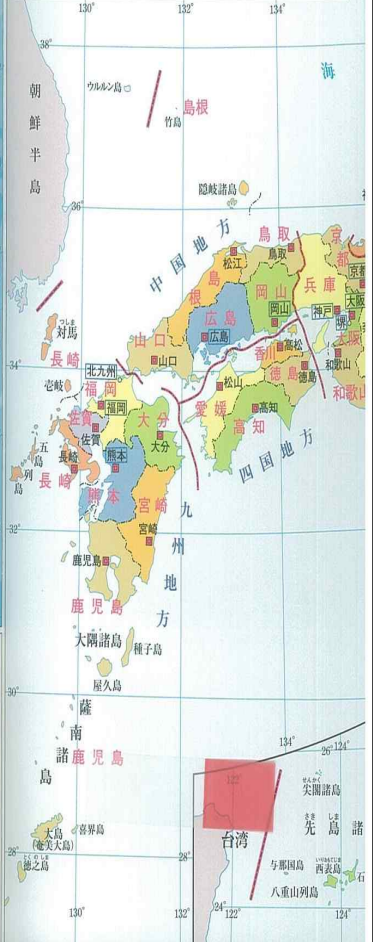
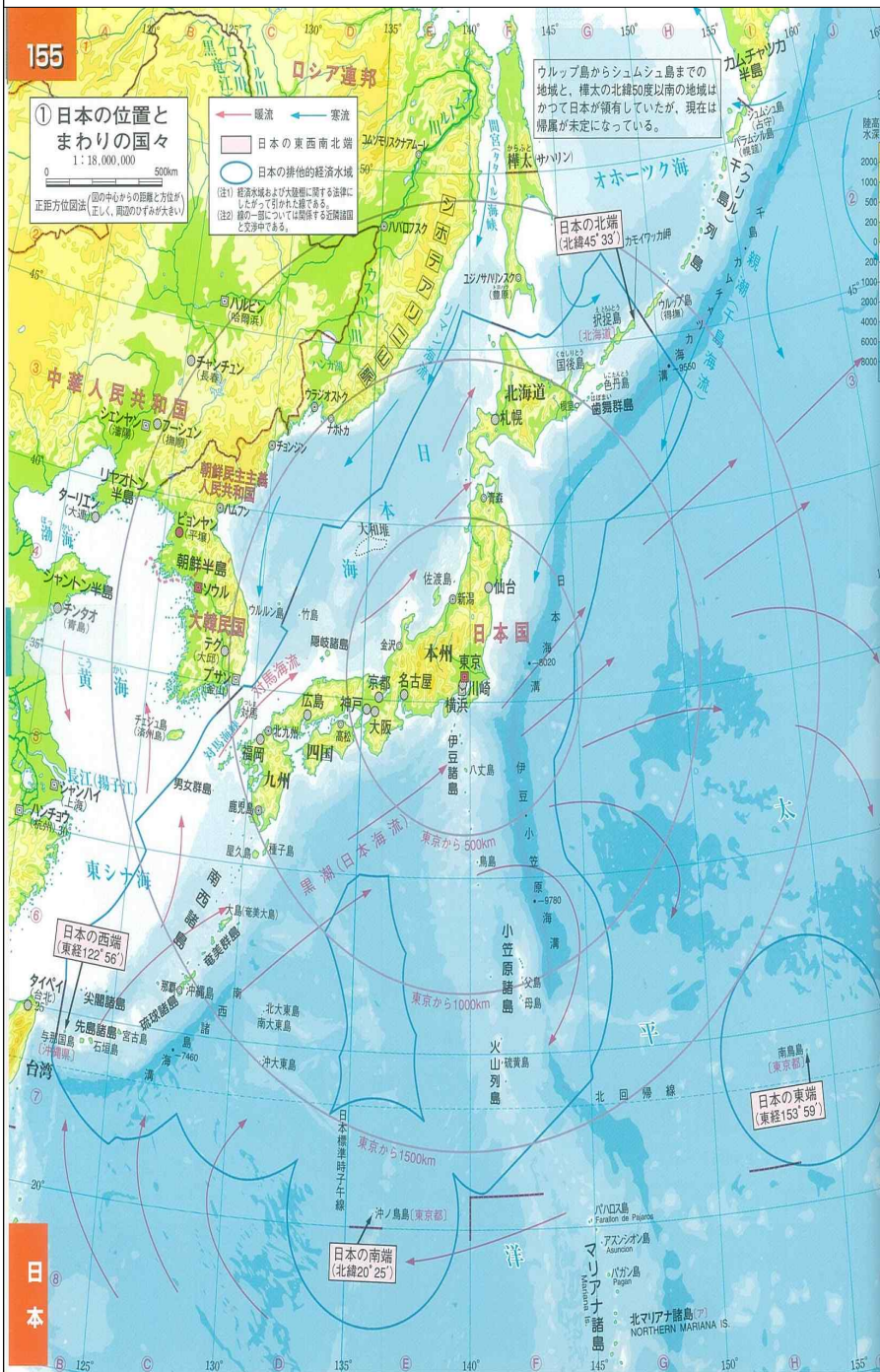
# 이탈리아

Tav. 51 ASIA-REGIONE NIPPO-COREANA/GIAPPONE Carta fisica



geoatlanto

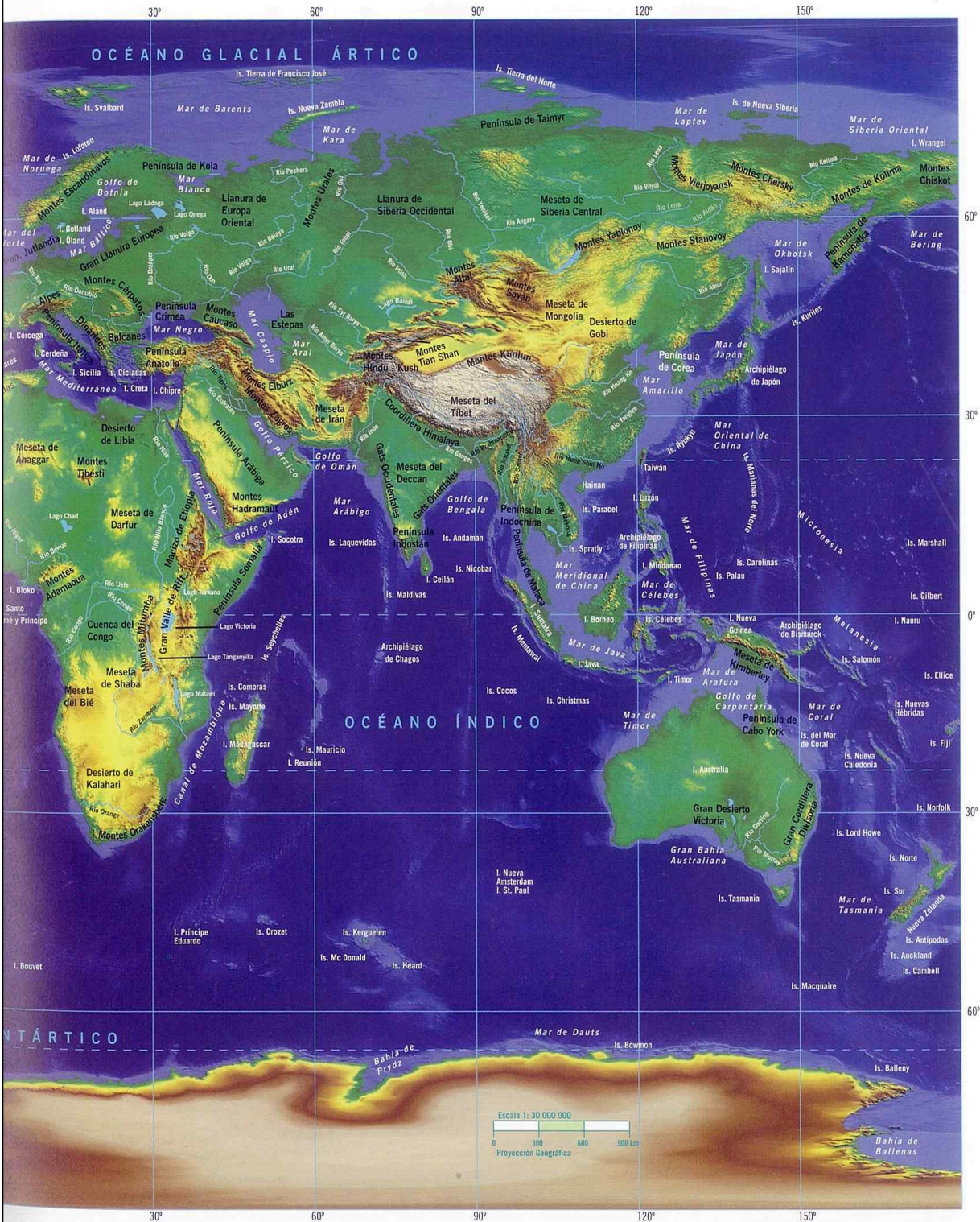
# 일본



# 한국



# 지리부도

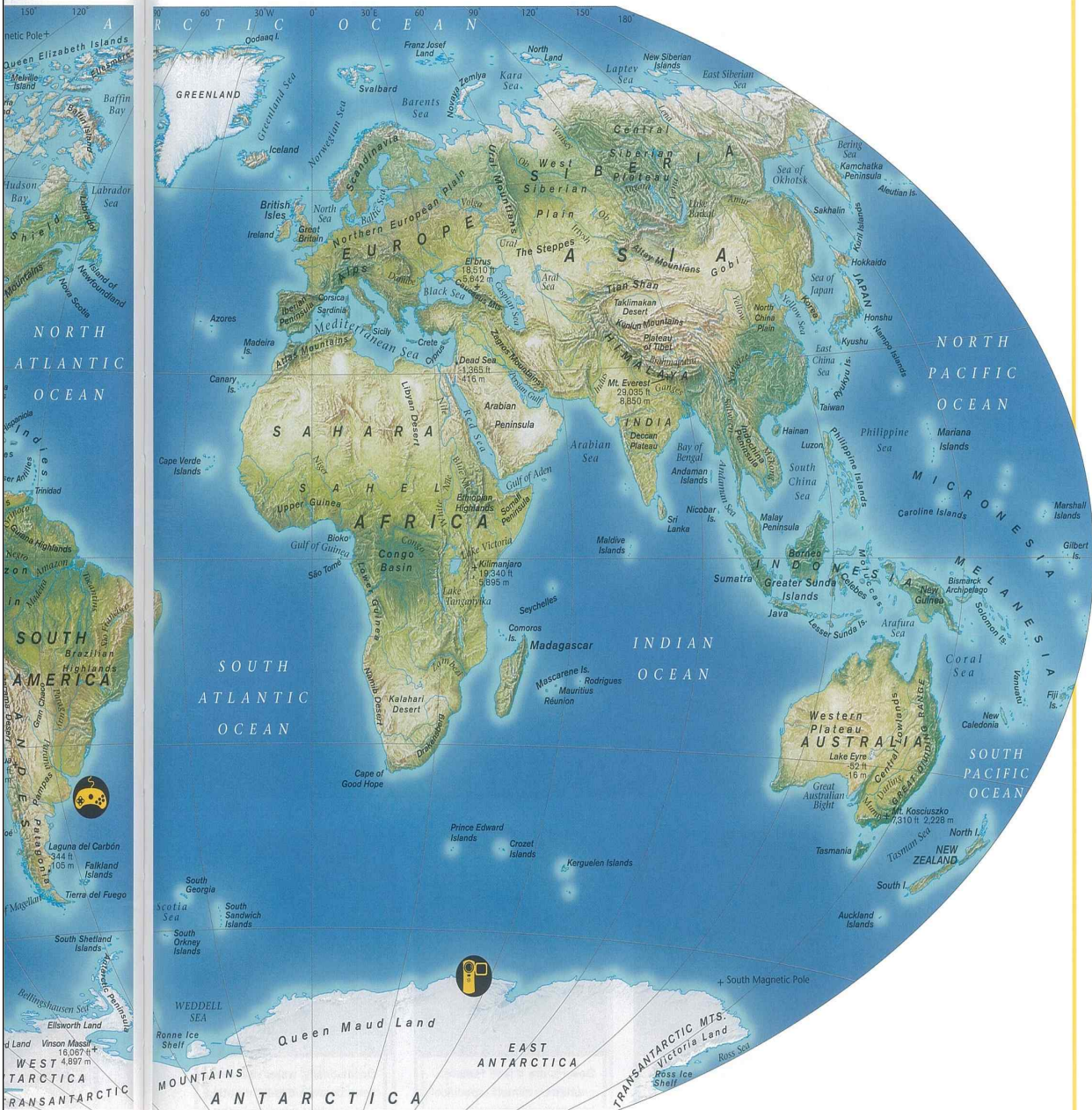


# 뉴질랜드

PHYSICAL MAP 121

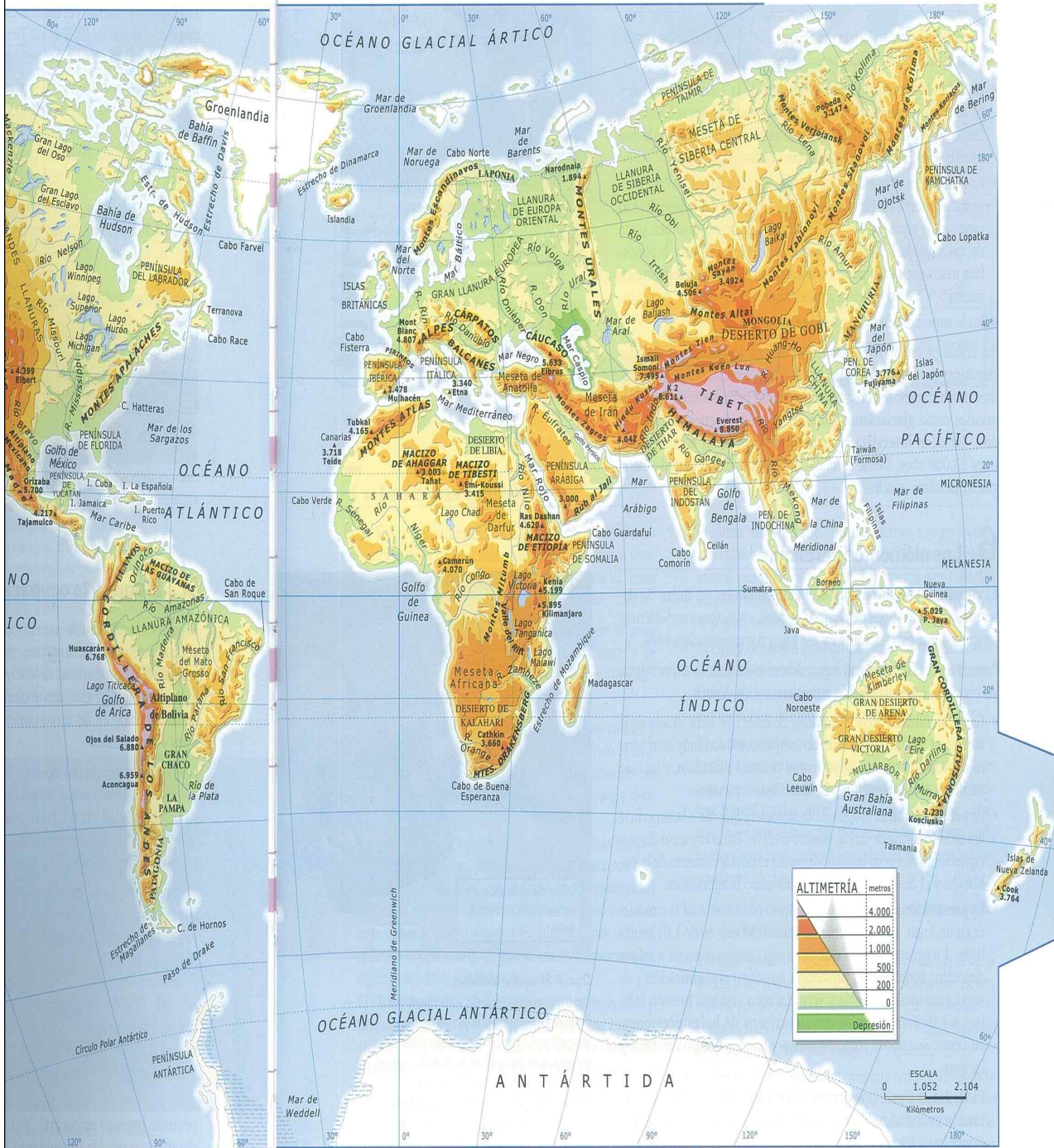
PHYSICAL WORLD

D



WORLD ATLAS FOR YOUNG EXPLORERS

# 스페인



Populamiento del mundo.

Doc. 7 Mapa físico del mundo.

# 스웨덴

sien

## Sydkorea

Sydkorea ligger vid Stilla havet längst ut på den koreanska halvön. Landet har utvecklats snabbt och är i dag ett av Asiens mäktigaste industriländer.

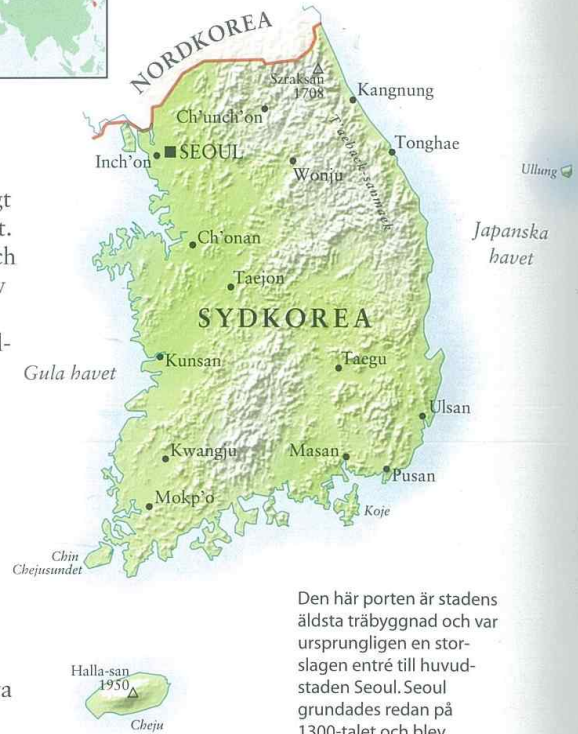


Yta: 99 270 km<sup>2</sup>  
Befolkning: 48,4 miljoner  
Huvudstad: Seoul (10 miljoner)  
Språk: koreanska  
Religion: de flesta är inte religiösa alls, buddhism, olika protestantiska kyrkor  
Valuta: won  
Export: elektronik, maskiner, personbilar, tål, fartyg, textilier, läder och skor  
Statsskick: republik, demokrati

Sydkorea gränsar till Nordkorea i norr. Norra och östra delen av landet är bergigt medan den sydvästra delen är mer låglänt. Det rinner många floder genom landet och de används bland annat för bevattning av risfälten.

Sydkoreas västra kust är mycket oregelbunden med många uddar och vikar. Utanför kusten ligger en skärgård med flera tusen öar. Här ligger till exempel Cheju som är Sydkoreas största ö. Klimatet på Cheju är subtropiskt och ön är ett populärt turistmål. Här finns landets högsta berg, som är nästan 2 000 meter högt.

Längs den östra kusten finns också en hel del öar. Den största av dem heter Ullung och är centrum för landets fiskeindustri. Sydkorea är bland de största fiskekationerna i världen och har bland annat en stor ostronodling.



Den här porten är stadens äldsta träbyggnad och var ursprungligen en stor-slagen entré till huvudstaden Seoul. Seoul grundades redan på 1300-talet och blev Sydkoreas huvudstad 1948.



Länder i världen

# TERKİ



## EKONOMİK MUCİZENİN ÜLKESİ: MODERN JAPONYA

### KONUYA BAŞLARKEN

1. Japonya denince aklınıza gelenleri sıralayınız.
2. Japonya hakkında merak ettiklerinizi sıralayınız.



### KİMLİK KARTI

Yüz Ölçümü: 377.815 km<sup>2</sup>  
Nüfusu: 127.333.002 milyon  
İdare Şekli: Anayasal monarşi  
Başkenti: Tokyo (nüfusu 11,5 milyon)  
Dili: Japonca (resmî)  
Dini: Şintoizm ve Budizm (azınlık olarak Hristiyanlık)  
Kişi Başına Düşen Millî Gelir: 23.100 ABD doları 2005  
Yıllık Nüfus Artış Oranı: %0,2  
Ortalama İnsan Ömrü: E: 77, K: 83 yıl  
Şehir Nüfusu Oranı: %79  
Ekonomik Faal Nüfus Oranı: %68  
Okuma Yazma Bilmeyenlerin Oranı: %0

Geçen sene Japonya'ya yaptığım gezi sanki bana başka bir dünyanın kapılarını araladı. İklimi, yer şekilleri, nüfusu bizim ülkemizden oldukça farklı. Volkanik patlamalardan meydana gelen irili ufaklı adalardan oluşan Japonya'nın, II. Dünya Savaşı'ndan sonra yeniden yapılandığı için "Küllerinden Doğan Ülke" unvanını aldığını, son derece az ham maddeye sahip olmasına rağmen ve teknolojsi bu kadar gelişmiş, dünyada başka bir ülke daha olmadığını öğrenince çok şaşırdım.

Japonya sokaklarında gezdiğimde dikkatimi çeken en önemli özellik nüfusunun yaşlı olmasıydı. Kiraz mevsimi geldiğinde kiraz ağaçlarının çiçek açmasını görmek için yabancı turistlerin Japonya'ya geldiğine ve halkın da festivaller düzenlediğine şahit oldum.

Japonya; volkanik patlamalara, Hiroşima ve Nagazaki'ye atılan atom bombalarına rağmen yeniden dirilmiş, bu diriliş onu dünyanın teknoloji devi hâline getirmiştir.

Damla'nın Japonya'ya yaptığı gezi sırasındaki izlenimlerini aktardığı hatıra yazısından da anlaşıldığı gibi ülke, teknolojisi, yüzey şekilleri ve coğrafi konum özellikleri bakımından dikkate değerdir.

Ölkeleri Tanıyalım

167

### PERFORMANS ÖDEVİ

Performans Ödevi: Sınıfta gruplar oluşturarak ilginizi çeken, merak ettiğiniz, sevdiğiniz herhangi bir ülkenin coğrafi özelliklerini araştırınız (Japonya örneğinde olduğu gibi).

Hazırlama süresi: 1 hafta

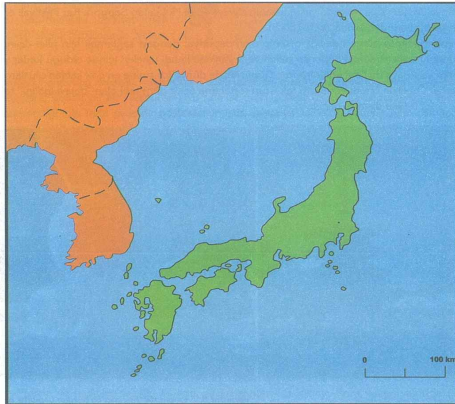
Çalışmayı yaparken: Çeşitli İnternet sitelerinden, gezi rehberlerinden, atlaslardan, ansiklopedilerden faydalanabilirsiniz. Seçtiğiniz ülkelerin:

1. Farklı kıtalarda yer almasına,
  2. Farklı gelişmişlik düzeylerinde olmasına,
  3. Coğrafi özelliklerinin farklı olmasına dikkat ediniz.
- Çalışmanız görsel materyallerle, power point sunumlarla destekleyebilirsiniz. Çalışmanız sınıfta sunduktan sonra okul içinde sergi düzenleyip stand kurarak bu ülkeleri tanıtabilirsiniz.

Değerlendirme: Çalışmanız, farklı kaynaklardan yararlanmanız, yeterli miktarda görsel materyal kullanmanız, çalışmayı zamanında teslim etmenize göre değerlendirilecektir.

### ETKİNLİK

Aşağıdaki Japonya dilisi haritası üzerine Japonya'nın komşularını, denizlerini ve dört büyük adasını yazınız.



174

Ölkeleri Tanıyalım



## İNGİLTERE'NİN SANAYİLEŞME SÜRECİ

### KONUYA BAŞLARKEN



1700'lerdeki el tipi üretimi



1750'deki ağırlık tipi üretimi



2006'daki sanayi üretimi

Fotoğraflara bakarak geçmişten günümüze İngiltere'de sanayinin gelişimi hakkında neler söyleyebilirsiniz?

### SANAYİNİN BEŞİĞİ İNGİLTERE



Harita 1: İngiltere'nin lokasyon haritası

İngilterenin Sanayi Devriminin beşiği olmasının nedenleri; Sanayi Devrimini hızlandıracak icatların, teknik buluşların Birleşik Krallıkta gerçekleşmesi, siyasi, ekonomik ve sosyal avantajlarının bulunmasıdır.

Kalkınma ve küreselleşmenin itici gücü olan sanayi günümüzde önemli ekonomik faaliyetlerinden biridir. Sanayileşme, bir ülkenin ya da bölgenin ekonomik ve toplumsal yapısındaki çok sayıda temel değişimi içeren bir süreçtir. Dünyada bu süreci ilk yaşayan ülke İngiltere'dir.

Sanayileşme sürecinin ilk olarak İngiltere'de yaşanmış olmasında bazı sosyal, politik ve ekonomik hatta tarihi nedenler vardır. Bu ülke, sahip olduğu deniz gücü sayesinde coğrafi keşifler sonrasında, doğal kaynaklar bakımından zengin olan birçok ülkeyi sömürgeleştirmişti. Böylece bu ülkelerin doğal kaynaklarını önce yelkenli gemilerle daha sonra da buharlı gemilerle ülkesine aktarmıştı. Bir ada devleti olan İngiltere, Avrupa ana karasına göre elverişli bir coğrafi konuma sahipti. XIX. yüzyıl başlarına kadar ana karada cereyan etmiş olan derebeylik mücadelesi, mezhep farkı huzursuzlukları, savaşlar gibi siyasal rahatsızlıklardan hiç etkilenmemiş ve siyasi istikrarını erken sağlamıştı.

İngiltere'nin Avrupa ana karasına göre daha özgür bir ortama sahip olması birçok bilim, sanat ve fikir adamının bu ülkeye yerleşmesine ve mesleğini özgürce icra etmesine de zemin hazırlamıştı.


Ölkeleri Tanıyalım

175



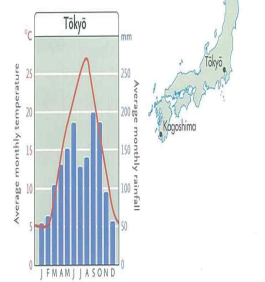
**Annual rainfall**

The driest parts of Japan are in the north, on the island of Hokkaidō. Most rain falls on the high mountain tops and the southern and western coasts.



**Climate statistics**

The tables below list average monthly temperature in degrees centigrade and average monthly rainfall in millimetres for three weather stations in Japan.



Sapporo	Jan	Feb	Mar	Apr	May	Jun	Jul	Aug	Sep	Oct	Nov	Dec
Temperature - °C	-5	-4	0	6	12	16	20	21	17	11	4	-2
Rainfall - mm	114	92	78	65	59	76	80	131	142	115	104	101


Tokyo	Jan	Feb	Mar	Apr	May	Jun	Jul	Aug	Sep	Oct	Nov	Dec
Temperature - °C	5	5	8	14	18	22	25	27	23	17	12	7
Rainfall - mm	54	63	102	128	148	181	125	137	153	181	93	56

Kagoshima	Jan	Feb	Mar	Apr	May	Jun	Jul	Aug	Sep	Oct	Nov	Dec
Temperature - °C	7	8	11	16	20	23	27	28	25	20	14	9
Rainfall - mm	95	106	147	256	275	475	323	209	211	188	92	80

**What affects Japan's climate?**

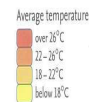
**Temperature: January**

In January temperatures fall below 0°C in the north of Japan. On the south coast and on the southern island of Kyūshū the winter is much milder.



**Temperature: August**

Most of Japan is very warm during the summer, especially in the southern part of the country. Temperatures are cooler on the high mountains in the north.



# 미국

